


基本問題

- ① 1866年、薩摩藩と長州藩は欧米の勢力に対抗できる政権をつくろうと同盟を結んだ。この同盟を何というか。
- ② ①の同盟を仲立ちした土佐藩出身の人物はだれか。
- ③ 1867年10月、徳川慶喜は政権を朝廷に返上した。このことを何というか。
- ④ 1867年12月、岩倉具視や西郷隆盛らは、天皇中心の政治に戻す宣言を出した。この宣言を何というか。
- ⑤ 旧幕府軍と新政府軍のそれぞれの代表者同士の話し合いにより、1868年4月に江戸城の明け渡しが決まった。この時、旧幕府側の代表者と新政府側の代表者はだれか、それぞれ書きなさい。
- ⑥ 鳥羽・伏見の戦いから始まり、五稜郭における戦いで終わった旧幕府軍と新政府軍との戦いを何というか。
- ⑦ 1868年3月、世論を大切に政治を進めること、外国との交際を深めて国を発展させることなどを示した新しい政治の方針を何というか。
- ⑧ 幕府にかわってできた新しい政府は、日本を近代国家にするため様々な改革を進めた。こうした改革と、それともなう社会の変革を何というか。
- ⑨ 薩摩藩、長州藩、土佐藩、肥前藩の出身者たちが政治の実権をにぎった。これらの藩の出身者による専制政治は何と呼ばれるか。
- ⑩ 1869年に全国の藩に、所有していた土地と人民を朝廷に返還させた政策を何というか。
- ⑪ 1871年、藩を廃止し、かわりに府や県を置いた政策を何というか。
- ⑫ 1871年、えた・ひにんなどの呼び名を廃止し、身分・職業とも平民と同じとする布告を何というか。
- ⑬ 欧米の強国に対抗するため、経済を発展させて国力をつけ、軍隊を強くすることを目指して政府が進めた政策は何とよばれるか。
- ⑭ 1872年に政府が出した、6歳以上の男女すべてが小学校教育を受けることを定めた制度を何というか。
- ⑮ 政府が近代的な軍隊をつくるために1873年に出した、満20歳になった男子に対し、士族・平民にかかわらず兵役の義務を負わせる命令を何というか。
- ⑯ 政府はこれまでの土地課税制度を改革し、土地に課せられる税を地価の3%と定め、そして土地所有者がその税を現金で納めることとした。この改革は何とよばれるか。
- ⑰ 政府が推進した、西洋の知識や技術を取り入れて近代産業の育成を目指した政策を何というか。
- ⑱ 近代化をめざす開明政策により、欧米の文化がさかんに取り入れられ、伝統的な生活が変化し始めた。このような社会の風潮（現象）を何というか。
- ⑲ 慶応義塾を創設して人材の育成に努め、また『学問のすゝめ』を著したことで知られる人物はだれか。

①		②		③		④	
⑤	旧幕府	新政府		⑥		⑦	
⑧		⑨		⑩		⑪	
⑫		⑬		⑭		⑮	
⑯		⑰		⑱		⑲	

発展問題

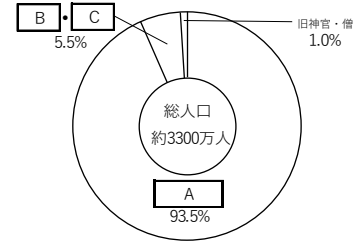
資料 1




資料 2

一、広ク会議ヲ興シ、万機公論ニ決スベシ。  
 一、上下心ヲ一ニシテ、盛ニ経綸ヲ行フベシ。  
 一、官武一途庶民ニ至ル迄各其志ヲ遂ケ、人心ヲシテ倦マサラシメン事ヲ要ス。  
 一、旧来ノ陋習ヲ破リ、天地ノ公道ニ基クベシ。  
 一、智識ヲ世界ニ求メ、大ニ皇紀ヲ振起スベシ。

資料 3



資料 4



資料 5



- ① 1863年、生麦事件の報復でイギリス艦隊が鹿児島を砲撃した。この戦争を何というか、書きなさい。
- ② 江戸幕府第15代将軍（江戸幕府最後の将軍）は誰か、書きなさい。
- ③ 1867年に近畿、四国、東海地方などで発生した、資料1のように、民衆が熱狂しておどる現象を何というか。
- ④ 明治新政府が1868年に出した、資料2のような新しい政治の方針を何というか、書きなさい。また、資料2中の下線部の文はどのような意味であるか、書きなさい。
- ⑤ 新政府が版籍奉還や廃藩置県をおこなった目的を書きなさい。
- ⑥ 資料3は1870年代の身分別人口の割合を示している。資料3中Aに入るかつて百姓や町民だった人たちは何とよばれるようになったか。また、Bに入るかつて武士だった人たち、Cに入るかつて藩主や公家であった人たちはそれぞれ何とよばれるようになったか、それぞれにあてはまる語を書きなさい。
- ⑦ 新政府は地租改正を行い、その際に土地の所有者に資料4を与えた。土地の所有者と地価が定められた資料4のような証明書を何というか。
- ⑧ 地租改正で、税をこれまでの米ではなく現金で納めさせた目的を書きなさい。
- ⑨ 資料5から、文明開化の影響がみられることを4つ簡潔に書きなさい。

①		②		③	
④		意味			
⑤					
⑥	A		B		C
⑦					
⑧					
⑨					